

PROFESSOR DANILO

MHS E INTRODUÇÃO AO ESTUDO DAS ONDAS – CORA CORALINA – 05/09/2022

FOLHA 11

Neste material, veremos os assuntos a seguir, onde temos o título presente neste material, o título da lista no SisQ e um checkbox para você ir acompanhando o desenrolar do nosso conteúdo.

Todas as listas a seguir estão na apostila 5.

- Oscilações p. 1
 - Lista: Movimento Harmônico Simples
- Introdução ao estudo das ondas p. 3
 - Lista: Introdução ao estudo das ondas



Q. 1 – EXEMPLOS DE SISTEMAS OSCILANTES

Balço, folhas em uma árvore quando está ventando, um objeto flutuando na água quando perturbado, um pêndulo etc.

Q. 2 – OSCILAÇÕES PERIÓDICAS

Quando o sistema oscilatório possui período e frequência bem definidos, dizemos que o sistema é periódico.

Exemplos: pêndulo simples, sistema massa-mola etc.

SISTEMA MASSA-MOLA

Q. 3 – LEI DE HOOKE

Q. 4 – SISTEMA MASSA-MOLA

Q. 5 – PERÍODO E FREQUÊNCIA

$$\text{Período} = \frac{\text{Tempo para ocorrer } n \text{ oscilações}}{n}$$

$$\text{Frequência} = \frac{n}{\text{Tempo para ocorrer } n \text{ oscilações}}$$

Com isso, período e frequência são grandezas inversamente proporcionais:

$$T = \frac{1}{f} \Leftrightarrow f = \frac{1}{T}$$

Sendo T o período e f a frequência.

Q. 6 – ENERGIA NO SISTEMA MASSA-MOLA

PÊNDULO SIMPLES

Q. 7 – DEFINIÇÃO, PERÍODO E FREQUÊNCIA

REVISÃO DAS EQUAÇÕES DO MCU

Q. 8 – PERÍODO E FREQUÊNCIA

$$T = \frac{1}{f} \Leftrightarrow f = \frac{1}{T}$$

PROFESSOR DANILO

MHS E INTRODUÇÃO AO ESTUDO DAS ONDAS – CORA CORALINA – 05/09/2022

Q. 9 – RELAÇÃO ENTRE VELOCIDADE LINEAR E VELOCIDADE ANGULAR

Q. 10 – EQUAÇÃO DA VELOCIDADE LINEAR (CONSTANTE)

Q. 11 – EQUAÇÃO DA VELOCIDADE ANGULAR (CONSTANTE)

Q. 12 – EQUAÇÃO DA POSIÇÃO ANGULAR NO MCU

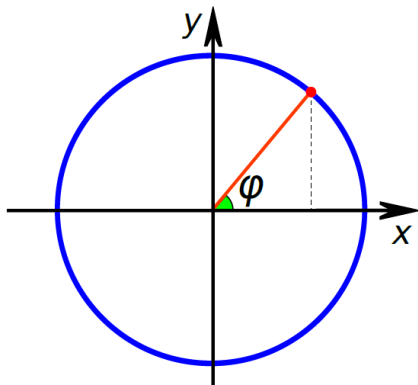


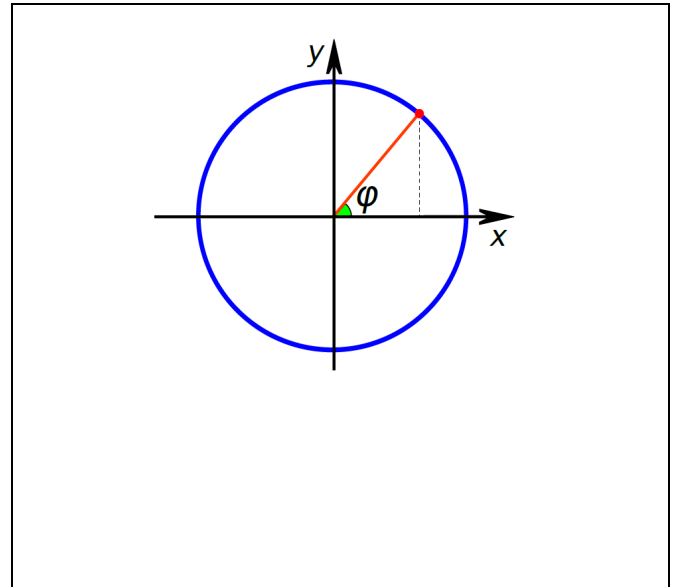
Figura 1: O movimento circular e uniforme (MCU)

RELAÇÃO ENTRE AS EQUAÇÕES DO MHS E DO MCU

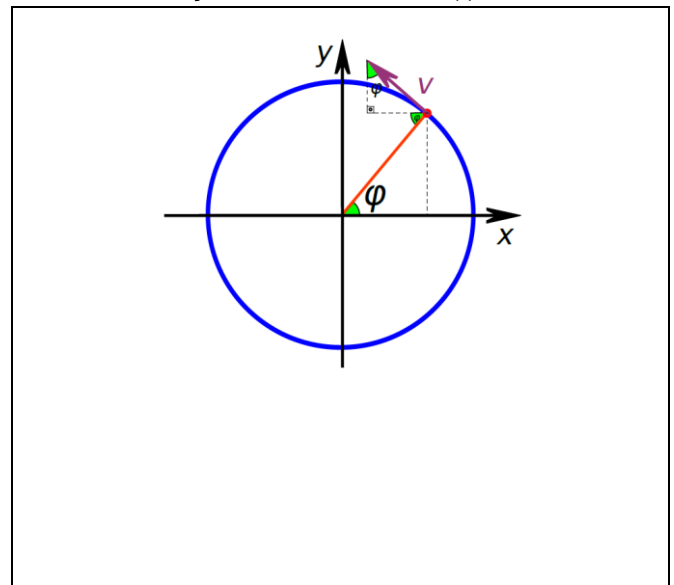
As grandezas vetoriais do movimento circular uniforme (MCU) podem ser decompostas. A componente destas grandezas nos eixos horizontal e vertical descrevem o movimento de corpos em

MHS. Ou seja, podemos usar o movimento circular uniforme para encontrar as equações do movimento harmônico simples (MHS). Vamos lá!!!

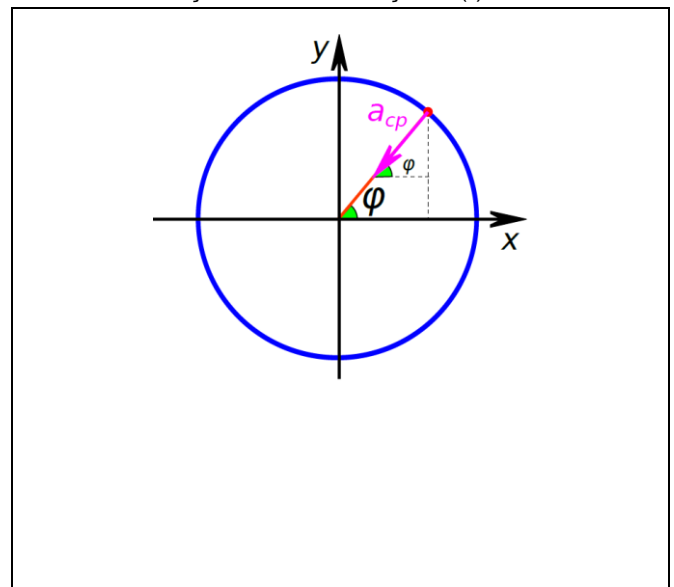
Q. 13– EQUAÇÃO DA POSIÇÃO $x(t)$ PARA O MHS



Q. 14– EQUAÇÃO DA VELOCIDADE $v(t)$ PARA O MHS



Q. 15 – EQUAÇÃO DA ACELERAÇÃO $a(t)$ PARA O MHS



INTRODUÇÃO AO ESTUDO DAS ONDAS

TIPOS DE ONDAS

Q. 16 – O QUE É UMA ONDA

Ondas são perturbações que se movem no espaço e transportam **apenas** energia, sem transportar matéria.

Podemos classificar as ondas, principalmente, em **ondas mecânicas e ondas eletromagnéticas**. Também podemos falar de ondas de matéria e onda gravitacional.

Como a matéria pode se comportar como onda, é natural se perguntar qual é a equação que descreve esta onda. O mais incrível é que tal função de onda deve ser expressa utilizando-se de números complexos e o módulo desta função é interpretado como a probabilidade de encontrar a partícula, expressa por esta onda, por unidade de volume.

Ondas gravitacionais foram verificadas experimentalmente em 2016 e se trata da propagação de uma perturbação no tecido do espaço-tempo.

Q. 17 – CLASSIFICAÇÃO DAS ONDAS

Podemos classificar as ondas quanto à:

Natureza

Direção de Oscilação

Vamos considerar apenas as ondas eletromagnéticas e mecânicas no material abaixo.

CLASSIFICAÇÃO QUANTO À NATUREZA

Q. 18 – ONDAS MECÂNICAS



Figura 2: Acesse a simulação de uma onda mecânica em uma corda observando-se ponto a ponto (Desmos®).

Q. 19 – ONDAS ELETROMAGNÉTICAS

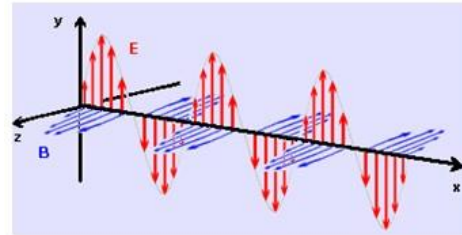


Figura 3: Representação instantânea dos vetores campos elétricos (verticais) e magnéticos (horizontais) de uma onda eletromagnética.



Figura 4: Animação em python/javascript de uma onda eletromagnética.

CLASSIFICAÇÃO QUANTO À DIREÇÃO DE OSCILAÇÃO

Q. 20 – ONDAS LONGITUDINAIS

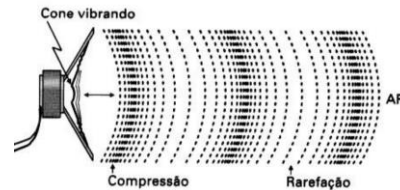


Figura 5: Onda sonora se propagando no ar: um exemplo de onda longitudinal.

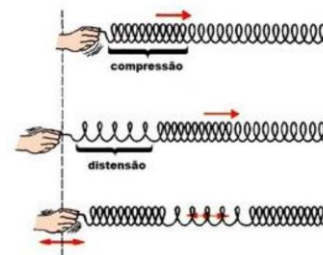


Figura 6: Onda longitudinal produzida em uma mola.



Figura 7: Animação no Desmos® de uma onda sonora.

Q. 21 – ONDAS TRANSVERSAIS

PROFESSOR DANILO

MHS E INTRODUÇÃO AO ESTUDO DAS ONDAS – CORA CORALINA – 05/09/2022




Figura 8: Onda Transversal em uma corda. O QR-code da Figura 2 aponta para um exemplo de uma onda transversal.

Q. 22 – ONDAS MISTAS

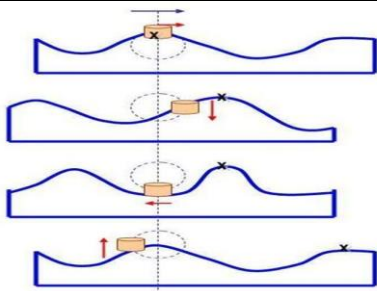


Figura 9: Exemplo de uma onda mista: uma onda se propagando nasuperfície de um lago calmo.

ELEMENTOS DAS ONDAS

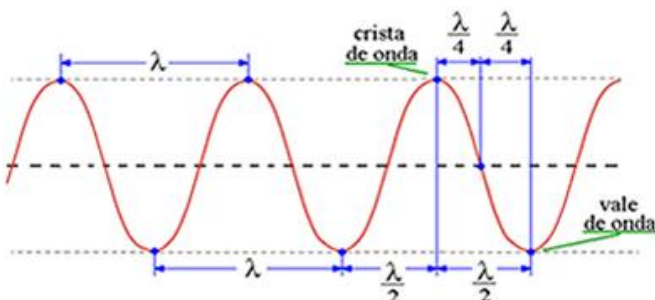


Figura 10: Elementos das ondas.

Q. 23 – PERÍODO DE UMA ONDA

Q. 24– FREQUÊNCIA DE UMA ONDA

Q. 25 – VELOCIDADE DE UMA ONDA

Q. 26 – EQUAÇÃO FUNDAMENTAL DA ONDULATÓRIA

Nota importante: quando uma onda muda de meio o que permanece constante é sua frequência. Sua velocidade e comprimento de onda podem ou não mudar, entretanto se uma mudar (velocidade ou comprimento de onda) necessariamente o outro termo muda (comprimento de onda ou velocidade).

Como luz é uma onda eletromagnética, tudo o que foi visto até o momento em óptica pode, até certa medida, ser relacionado com ondulatória. Faremos isso revendo os conceitos de:

- reflexão;
- refração (Lei de Snell);

EXERCÍCIOS

01. (UEL) Os morcegos, mesmo no escuro, podem voar sem colidir com os objetos a sua frente. Isto por que esses animais têm a capacidade de emitir ondas sonoras com frequências elevadas, da ordem de 120.000 Hz, usando o eco para se guiar e caçar. Por exemplo, a onda sonora emitida por um morcego, após ser refletida por um inseto, volta para ele, possibilitando-lhe a localização do mesmo.

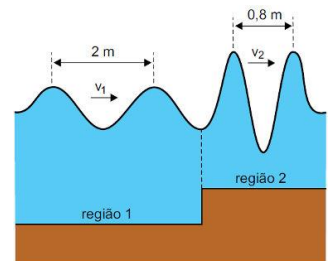
Sobre a propagação de ondas sonoras, pode-se afirmar que

- a) o som é uma onda mecânica do tipo transversal que necessita de um meio para se propagar.
- b) o som também pode se propagar no vácuo, da mesma forma que as ondas eletromagnéticas.
- c) a velocidade de propagação do som nos materiais sólidos em geral é menor do que a velocidade de propagação do som nos gases.
- d) a velocidade de propagação do som nos gases independe da temperatura destes.
- e) o som é uma onda mecânica do tipo longitudinal que necessita de um meio material para se propagar.

02. (FUVEST) Uma roda, contendo em sua borda 20 dentes regularmente espaçados, gira uniformemente dando 5 voltas por segundo. Seus dentes se chocam com uma palheta produzindo sons que se propagam a 340 m/s.

- a) Qual a frequência do som produzido?
- b) Qual o comprimento de onda do som produzido?

03. (FAMEMA-SP) Com o objetivo de simular as ondas no mar, foram geradas, em uma cuba de ondas de um laboratório, as ondas bidimensionais representadas na gura, que se propagam de uma região mais funda (região 1) para uma região mais rasa (região 2).



Sabendo que, quando as ondas passam de uma região para a outra, sua frequência de oscilação não se altera e considerando as medidas indicadas na figura, é correto afirmar que a razão entre as velocidades de propagação das ondas nas regiões 1 e 2 é igual a:

- a) 1,6.
- b) 0,4.
- c) 2,8.
- d) 2,5.
- e) 1,2.

EXERCÍCIOS

- 01.** E **02.** a) 100 Hz b) $\lambda = 3; 4$ m **03.** D